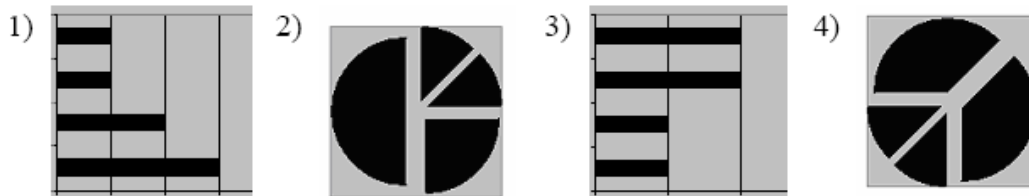


1

Дан фрагмент электронной таблицы:

	A	B	C	D
1		3	4	
2	=C1-B1	=B1-A2*2	=C1/2	=B1+B2

После выполнения вычислений была построена диаграмма по значениям диапазона ячеек A2:D2. Укажите получившуюся диаграмму.



2

Дан фрагмент электронной таблицы:

	A	B	C
1	4	6	=A2+B2
2	=2*A1	=A2+B1	=C1*2+B2

Определите значение, записанное в ячейке C2.

В ответе укажите одно число — искомое значение.

Ответ: _____


3

Дан фрагмент электронной таблицы:

	A	B	C	D
1	1	2	3	4
2	= C1	= A1 + B1	= D1 - A1	

Какая формула может быть записана в ячейке D2, чтобы построенная после выполнения вычислений диаграмма по значениям диапазона ячеек A2:D2 соответствовала рисунку?

- 1) = A1 + 2
- 2) = B1 + 2
- 3) = C1*3
- 4) = D1 + 2



4

Дан фрагмент электронной таблицы:

	A	B	C
1	3	1	=A2-B2
2	=2+A1	=(A2+B1)/2	=C1*3

Определите значение, записанное в ячейке C2.

В ответе укажите одно число — искомое значение.

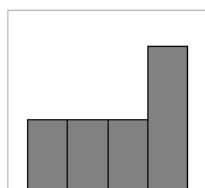
5

Дан фрагмент электронной таблицы:

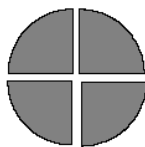
	A	B	C	D
1		1	2	
2	=C1/2	=(A2+B1)/2	=C1-B1	=2*B2

После выполнения вычислений была построена диаграмма по значениям диапазона ячеек A2:D2. Укажите получившуюся диаграмму.

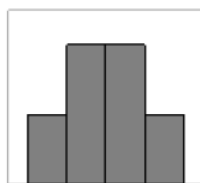
1)



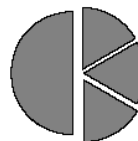
2)



3)



4)




6

Дан фрагмент электронной таблицы:

	A	B	C	D
1	1	2	3	4
2	= 4*A1	= D1	= C1 + A1	

Какая формула может быть записана в ячейке D2, чтобы построенная после выполнения вычислений диаграмма по значениям диапазона ячеек A2:D2 соответствовала рисунку?



1) = C1 - 2 2) = A1 + 1 3) = D1*2 4) = C1 + 1

7

Дан фрагмент электронной таблицы:

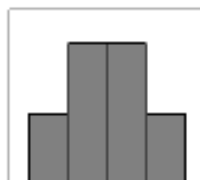
	A	B	C	D
1	3		3	2
2	=(C1+A1)/2	=C1-D1	=A2-D1	=A1-2

После выполнения вычислений была построена диаграмма по значениям диапазона ячеек A2:D2. Укажите получившуюся диаграмму.

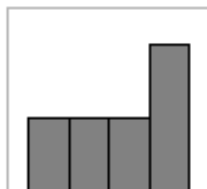
1)



3)



2)



4)



8

14. Дан фрагмент электронной таблицы:

	A	B	C
1	3	4	=A2+B2
2	=5+A1	=(A2+B1)/2	=C1*2

Определите значение, записанное в ячейке C2.

В ответе укажите одно число — искомое значение.